

Име _____

Време на решавање _____

МАТЕМАТИЧКА ИГРА – КОЈ ПОБРГУ

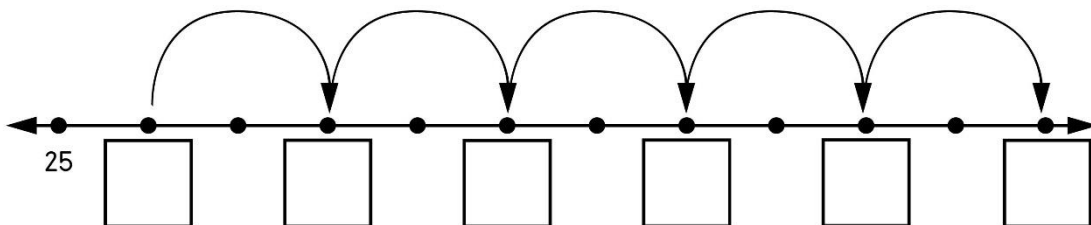
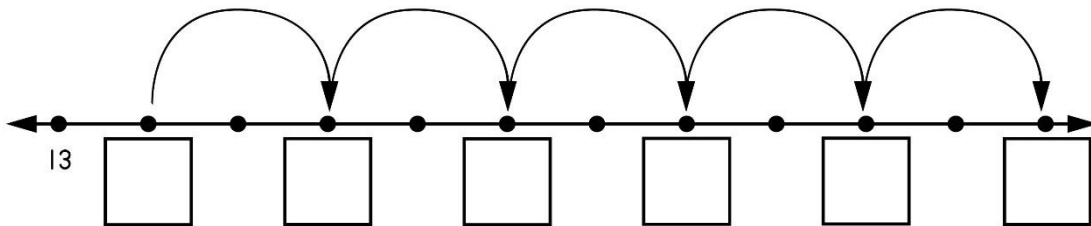
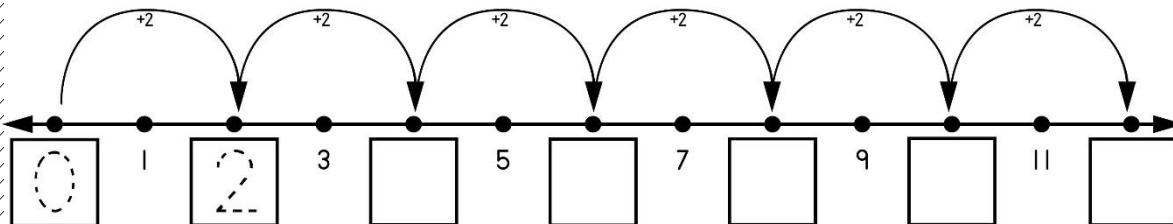
Брои по 10.

0	10	20			
---	----	----	--	--	--



80				130
----	--	--	--	-----

Брои по 2 и запиши ги броевите кои недостасуваат.



390			430	
-----	--	--	-----	--

	780	
--	-----	--





2	4			10		
---	---	--	--	----	--	--


64	68	72					84
----	----	----	--	--	--	--	----

30				42		
----	--	--	--	----	--	--

		84		92		
--	--	----	--	----	--	--

			26			
--	--	--	----	--	--	--

Со помош на бројната оска, броеј по 5. Заокружи ги сите петти броеви при тоа.



Во табелата запиши ги сите броеви кои си ги добил при броењето.

5							